

## 領土・主権展示館

NATIONAL MUSEUM OF  
TERRITORY AND SOVEREIGNTY

### 展示館情報

所在地：東京都千代田区霞が関3-8-1虎の門三井ビルディング1階

開館時間：10時～18時

入館料：無料

休館日：月曜日(月曜日が祝休日となる場合はその次の平日休館)  
年末年始(12月29日から1月3日)

電話番号：03-6257-3715

最寄り駅：東京メトロ 銀座線「虎ノ門駅」3番出口より徒歩1分、  
：東京メトロ 丸ノ内線・日比谷線・千代田線「霞ヶ関駅」A13出口より徒歩5分、  
：東京メトロ 日比谷線「虎ノ門ヒルズ駅」A2出口より徒歩5分

HP <https://www.cas.go.jp/jp/ryodo/tenjikan>



@ryodoshuken Twitterやってます



## 領土・主権展示館

# WORK BOOK

領土・主権展示館を見学しながら、ワークブックに挑戦してみよう!

●p.02～p.08は、展示やパンフレットを見ながら考えてみてください。

●p.09～p.10は、クイズになっています。

少し難しい問題もありますが、マークがついている問題の答えを記入し、受付カウンターに提出いただくとグッズをプレゼント致します!

# はじめに

## 領土・主権展示館ってどんなところ？

日本にはおよそ14,000の島があり、日本人はそれらの島に行き来したり、利用したりすることができます。

しかし、我が国の領土であるにもかかわらず、外国に占拠され、日本人の自由が及ばない島があります。それが北方四島と竹島です。また、歴史的にも国際法的にも日本の島であり、我が国が有効に支配しているにもかかわらず、他国が独自の主張を展開し、その行動により周辺の情勢が複雑化している島があります。それが尖閣諸島です。

この展示館では、北方四島、竹島、尖閣諸島がどのような島で、どのような成立ちや歴史があるのか、さらに世界の国々がお互いの関係を規定する条約などの国際法では領土についてはどのようなルールが定められており、それによると、これらの島々の日本による領有について、どのように考えられるのか、学ぶことができます。

領土・主権展示館での学習を通じて、なぜ北方四島、竹島、尖閣諸島は日本の領土であるといえるのか、なぜこれらの島々が他国に占領されたり、あるいは独自の主張が行われる状況になっているのか、また、それぞれどのような対応をとるのが良いのか、考えてみましょう。

### イメージキャラクターの紹介

北方領土  
エリカちゃん



- 性別:女の子
- 誕生日:ひみつ
- 住んでいるところ:北海道根室市納沙布岬崖
- 好きな食べ物:根室産のさんま、北方領土のサケ・マス

竹島  
りゃんこちゃん



- 性別:ひみつ
- 誕生日:2月22日
- 住んでいるところ:竹島周辺の海
- 好きなこと:海でのびのび泳ぐこと・洞窟探検
- 好きな食べ物:日本海のイカ

尖閣諸島  
アルバちゃん



- 性別:女の子
- 誕生日:1月14日
- 住んでいるところ:南小島
- 好きなこと:お友達とのおしゃべり
- 将来の夢:記念切手のモデル

# 領土

領土について  
学んでみよう!




## Q1

第二次世界大戦は日本のポツダム宣言受諾で終戦を迎えたけど、そのポツダム宣言で日本の主権が及ぶ範囲はどこまでと規定されたのだろう？



1945年8月14日にポツダム宣言を受諾した結果、日本の主権が及ぶのは、( )、( )、( )及び( )並びに連合国が決定する( )に局限されるべし、となりました。



## Q2

現在の日本の領土はどのように決められたの？



第二次世界大戦後の1952年4月発効の( )平和条約により、法的に確定されました。


## Q3

日本にある領土問題って何？



一般に「領土」とは、国家が領有する陸地を指し、国家はその領土に対して主権を有します。日本政府は、一般的に他国との間で解決すべき領有権の問題という意味で「領土問題」という表現を使っていますが、日本が関わる領土問題には、ロシアとの間の( )問題及び韓国との間の( )問題があります。

まずは領土の基礎知識だよ!



# 北方領土



Q1

北方領土問題についての日本の立場は？

日本政府は北方四島の帰属の問題を解決してロシアとの( )を  
早期に締結するという方針です。

北方領土は日本固有の領土だっぴ！

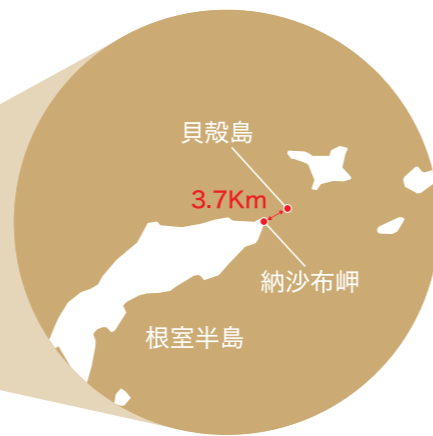
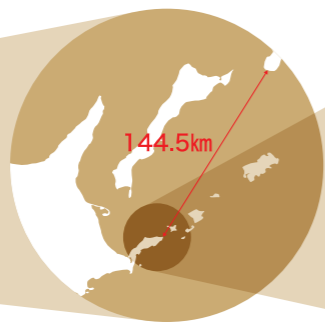
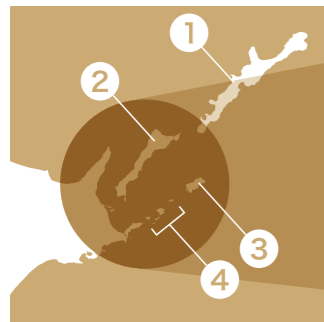


Q2

北方四島とは、どこに位置し、  
何という島々で面積はどれくらいなの？



北方四島とは、北海道北東の洋上に連なる①( )、②( )、③( )  
及び④( )のこと。四島の総面積は5,003km<sup>2</sup>で、福岡県(4,986km<sup>2</sup>)、千葉県(5,158km<sup>2</sup>)とほぼ同じ  
面積です。根室半島の納沙布岬から一番近い④( )の貝殻島まではわずか3.7km、一番遠い  
①( )からでも144.5kmで、八丈島と本土より近い距離です。



Q3

江戸時代にはどのような取り決めが  
行われていたの？

江戸時代、( )藩は、北方四島の統治を徐々に確立し、( )年に江戸幕府とロシア  
(帝政)との間で( )条約が結ばれ、当時自然に成立していた択捉島とウルップ島との間の国境を  
法的に確認しました。

Q4

終戦当時、北方四島にいた  
日本人はどうなったの？



1945年8月、ソ連は当時まだ有効だった( )条約に反し、対日参戦し、北方四島を占領しました。  
北方四島には約( )人の日本人が住んでいましたが、全員が( )年までに強制的に日本  
本土に引き揚げさせられました。



多楽小学校の大運動会  
所蔵：千島歯舞諸島居住者連盟



志発島の缶詰工場  
所蔵：千島歯舞諸島居住者連盟



市街の光景  
所蔵：千島歯舞諸島居住者連盟

たくさん日本人が  
住んでいたんだっぴ！



Q5

サンフランシスコ平和条約では、北方領土の  
扱いはどうなったの？

サンフランシスコ平和条約の結果、日本は、( )の南部と、千島列島(すなわち、( )以北  
の島々)を放棄しましたが、その中に北方四島は含まれていません。なお、ソ連は同条約に調印しませんでした。



日ソ共同宣言に署名する鳩山総理とブルガーニン首相  
写真：共同通信社

1956年当時、日ソ両国は平和条約を締結すべく交渉を行っていましたが、我が国が一貫して返還を主張した北方  
四島の内、( )と( )の帰属問題についての合意が達成できなかったため、まず共同  
宣言を締結して外交関係を回復し、平和条約交渉を継続することとして、領土問題の解決を将来に委ねました。

Q6

1956年当時、なぜ平和条約が  
締結されずに「日ソ共同宣言」  
という名称の条約が締結され  
たのだろう？



# 竹 島



Q1

竹島問題についての日本の立場はどのようなものなの？

竹島はどんな島だろう!?



竹島は日本固有の領土であり、これは歴史的にも国際法上も明らかですが、韓国が一方向的に竹島を取り込み( )しています。戦後一貫して平和国家として歩んできた日本は、この問題の平和的解決を目指しています。


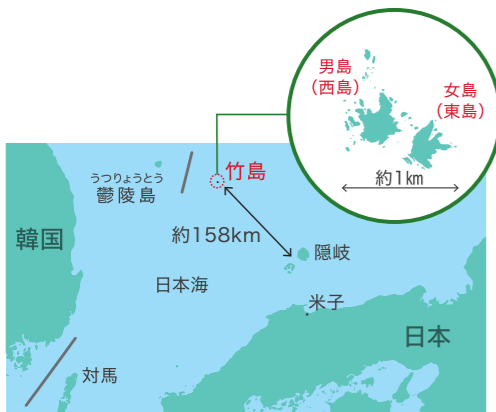
Q2

日本人はいつの時代から竹島を利用していたの？



日本は、遅くとも( )世紀半ばには、竹島に対する領有権を確立しました。この頃、隠岐の島から鬱陵島までの道筋にある竹島は、渡航の目標や船がかり(停泊地)として、また( )や( )の漁獲の好地として利用されていました。ある幕臣が竹島への渡海について老中の内意を得た旨を記す( )年の書簡が残っています。

なお、鬱陵島については、17世紀末に朝鮮との争いを避け、友好関係を尊重して幕府は日本人の渡海を禁じました。



正確な知識を基に描かれた絵図「小谷伊兵衛より差出候竹嶋之絵図」  
所蔵：鳥取県立博物館

Q3

日本政府は何年に竹島をこの県に所属する島と決めたの？



( )年、日本政府は閣議決定により、竹島を( )県に編入し、領有意思を再確認しました。現在も、同県( )町に属しています。



閣議決定書  
所蔵：国立公文書館




明治39年隠岐島庁前での竹島視察団記念写真  
(大野政助写真師撮影)  
所蔵：鳥根県立図書館

Q4

サンフランシスコ平和条約の起草過程で、米国が韓国に対して、竹島について朝鮮の一部として取り扱われたことは決してなく、日本の島である旨を表明した文書は①から④のうちのどれかな？



- ①マッカーサー書簡
- ②ダレス書簡
- ③アチソン書簡
- ④ラスク書簡



1951年(昭和26年)8月10日  
所蔵：米国立公文書館

Q5

サンフランシスコ平和条約で、主張が通らなかった韓国はどのような行動に出たのだろう？



条文修正の要請が聞き入れられなかった韓国は、( )大統領が( )宣言を発出し、いわゆる( )ラインを公海上に一方向的に設定するとともに、同ラインに竹島を取り込み、その後、不法占拠を開始しました。

Q6

1953年から韓国によって竹島が不法に占拠されているが、これに対して日本は、どのような対応してきたのだろう？



国際社会の( )を尊重する日本は、日韓の二か国間では解決が期待できないため、( )への付託を1954年、1962年、2012年に提案しましたが、これに対し韓国は、提案を拒否しています。


# 尖閣諸島



Q1

尖閣諸島をめぐる情勢についての日本の立場はどのようなものなの？

尖閣諸島が日本固有の領土であることは、歴史的にも国際法上も明らかであり、現に我が国はこれを( )に支配しています。尖閣諸島をめぐる解決しなければならない領有権の問題はそもそも存在しません。



航路が描かれた琉球の巻物(渡閩航海図)  
所蔵:沖縄県立博物館・美術館


尖閣諸島は古くから( )を行き来する船の( )として利用されていました。琉球国(現沖縄県)の資料や絵図にも描かれています。



Q3

日本政府は何年に尖閣諸島を領土編入し、どのような手続きを取ったのかな？

明治維新後、日本は近代国際社会の中での地位向上に力を入れる中で、周辺離島の位置づけを明確にすることは重要な課題でした。明治政府は、尖閣諸島が( )であるだけでなく外国の支配の形跡がないことを丁寧に調べた上で、閣議決定により( )年沖縄県の所轄とし正式に領土に編入しました。現在は、沖縄県( )市に属しています。



国標建設と沖縄県所轄を認める閣議決定  
所蔵:国立公文書館

尖閣諸島について考えてみよう!!



Q2

尖閣諸島はどのような島だったの？



尖閣諸島魚釣島(1908年頃)  
提供:那覇市歴史博物館

Q4

領土編入後尖閣諸島ではどんなことが行われていたの？



領土編入された翌年、九州福岡の商人である古賀辰四郎は、国有地であった4つの島の無償貸与を受けて開拓に従事し、( )の羽毛採取や豊かな漁場を背景に( )の製造などを行いました。この頃、尖閣諸島の居住者は99戸、248名に及びました。

Q5


1919年に尖閣諸島周辺で漁民31名が遭難し、これを島の住民が救助したことに對して翌1920年に助けられた漁民の国の長崎領事から「日本帝国沖縄県八重山郡尖閣列島」と記載された感謝状が贈られているが、遭難したのはどこの国の漁民だったのだろう？



- ①トルコ
- ②スペイン
- ③中華民国
- ④アメリカ合衆国

Q6

第二次世界大戦後の尖閣諸島を含む沖縄はどのような状況に置かれていたの？



1952年4月サンフランシスコ平和条約が発効し、( )及び大東諸島を含む( )諸島は同条約第二章第三条により米国の施政下に置かれることになりました。その後、1972年に、( )協定によって、尖閣諸島を含む沖縄の施政権が日本に返還されました。




サンフランシスコ平和条約への署名  
提供:共同通信社

Q7

1970年代になりそれまでの75年以上の沈黙を破り、突如、中国と台湾が尖閣諸島の領有権を主張し始めたのはなぜ？




1969年5月に東シナ海に( )埋蔵の可能性があるとの( )の調査結果の報告書を受けてのことによるものと考えられます。





## プレゼントクイズ

### 領土について

- Q1** 日本の領土の面積は、約38万km<sup>2</sup>ですが、以下の国々のうち、同じくらいの広さの国はどこでしょうか？ 
- ①エジプト ②ドイツ ③インドネシア ④ペルー
- Q2** 日本の東西南北それぞれの端にある島の名前は？
- ①南鳥島、石垣島、父島、択捉島 ②南鳥島、魚釣島、種子島、択捉島  
③南鳥島、与那国島、沖ノ鳥島、択捉島 ④南鳥島、波照間島、硫黄島、択捉島
- Q3** 日本の領土の面積は、約38万km<sup>2</sup>で世界で62番目の広さですが、排他的経済水域（EEZ）の面積は世界で何番目の広さかな？
- ①3番目 ②6番目 ③9番目 ④12番目

### 北方領土


- Q1** 1875（明治8）年、樺太全島をロシア領とし、その代わりに千島列島すなわちウルップ島以北の18島を日本が領有することなどを取り決めた「樺太千島交換条約」の交渉における日本側特命全権公使は誰か？ 
- ①黒田清隆 ②榎本武揚 ③渋沢栄一 ④勝海舟
- Q2** 1941年、領土の拡張を求めない方針等を明らかにした連合国の宣言とは何？
- ①北大西洋憲章 ②ヤルタ協定 ③大西洋憲章 ④カイロ宣言
- Q3** 海部総理とゴルバチョフソ連大統領により、北方四島が領土問題の対象であることを明確に確認した声明とは何？
- ①日ソ基本条約 ②日ソ共同声明 ③日ソ共同宣言 ④ポツダム宣言




プレゼントクイズは応用問題だっぴ！  
ちょっと難しいっぴ!!




このマークのある問題の答えを受付カウンターで教えてね！  
グッズがもらえるよ！



### 竹島


- Q1** 竹島は鬱陵島と比べ、どれくらいの大きさの島？ 
- ①約10分の1 ②約90分の1 ③約180分の1 ④約360分の1
- Q2** 江戸時代、竹島周辺でとれたアワビが将軍に献上された記録が残っていますが、その将軍とは誰でしょう？
- ①徳川家康 ②徳川家綱 ③徳川吉宗 ④徳川慶喜
- Q3** 連合国が、サンフランシスコ平和条約第2条(a)で、朝鮮の一部として済州島、巨文島、鬱陵島を列挙することとしたのはなぜか？
- ①日本と朝鮮の間にある島の帰属を明確にするため  
②朝鮮の島の中で、最も大きな3つの島だから  
③朝鮮の島のうち英語名がある島だったから  
④韓国がこれらの島々の明記を要求していたため



頑張って解くんだオ!!



### 尖閣諸島

- Q1** 1895年に、我が国が尖閣諸島を領土に編入した際の総理大臣は誰？ 
- ①大隈重信 ②伊藤博文 ③桂太郎 ④原敬
- Q2** 石垣市が、条例で「尖閣諸島開拓の日」として定めているのはいつ？
- ①1月14日 ②2月7日 ③2月14日 ④2月22日
- Q3** 1979（昭和54）年の学術調査時に発見、採取された魚釣島の固有種であり、環境省のレッドリストで絶滅の恐れが最も高い「絶滅危惧IA類」に指定されている実在する哺乳類は何？
- ①センカクモグラ ②センカクネズミ ③センカクウサギ ④センカクヤマネコ

頑張ってプレゼントをGETしてね!



## エピソード

### 北方領土

#### EPISODE 1 北方領土の島の名称の由来について

- 歯舞群島  
貝殻島、水晶島、勇留島、多楽島などの島々からなり、「歯舞」の名称の由来はアイヌ語で「流氷のある島」です。
- 国後島  
十数か所の温泉が存在する火山島。名称の由来はアイヌ語で「草の島」です。
- 色丹島  
島全体が高山植物地帯で、緑に覆われた丘陵が連なっています。名称の由来は、アイヌ語で「大きな集落のある地」です。
- 択捉島  
火山島でサケやマスが水揚げされるなど水産資源に恵まれています。名称の由来は、アイヌ語で「岬のあるところ」です。

※いずれも北海道根室振興局の所管区域

#### EPISODE 2 プチャーチン提督が受けていた訓令

1853(嘉永6)年2月にロシア海軍プチャーチン提督は、帝政ロシア皇帝ニコライI世より「ロシアに属する最南端はウルップ島であり、同島をロシア領の南方における終点と述べて構わない。」という訓令を受けていました。ロシアは、択捉島以南を日本が有効に支配していたことを認めていたことは明白です。

#### EPISODE 3 「魯」から「露」へ

江戸時代の日魯通好条約時のロシアの漢字表記は「魯」でしたが、1873年にロシア政府から「魯」という漢字は魯鈍(ろどん:おろかだにぶいこと)などの悪い意味をもつから変えてほしいという要望があったことをきっかけに、以後「露」に変えたとの経緯があります。

#### EPISODE 4 アニメーション映画「ジョバンニの島」

北方四島の一つ色丹島にソ連軍が進駐し、故郷に帰ることができなくなった人たちの悲しみ、父との再会を思い続ける幼い兄弟、過酷な運命に翻弄されながらも誇り高く生きる人々を描いた物語で、北方領土の元島民であり、今も「語り部」として活躍されている色丹島出身の得能宏氏の経験を踏まえた、色丹島が舞台のアニメーション映画です。

※主人公の少年「純平」は得能宏氏がモデルです



©JAME

### 竹島

#### EPISODE 1 竹島と江戸城のつながり

江戸時代、日本の廻船業者(大谷甚吉、村川市兵衛)は、当時の大型の木造外用船(弁財船)で3日かけて竹島の先の鬱陵島まで漁に行きました。鬱陵島では、海の幸のみならず、杉、竹、桐、日本では貴重な壇木(黒檀、白檀、紫檀)などが豊富にとれました。これらの木材は当時行われていた江戸城の造築にも使われたと言われています。

#### EPISODE 2 りゃんこ大王

現在の竹島は、日本ではかつて「松島」と呼ばれていました。明治時代には、竹島を「発見」したフランスの船の名前「リアンクール号」にちなみ、「りゃんこ島」と呼ばれるようになっていましたが、1905年に正式に「竹島」と命名されました。島根県立三瓶自然館で展示されている体長288cm、体重750kgのニホンアシカの剥製は、「りゃんこ大王」と呼ばれています。

#### EPISODE 3 長久保赤水の地図

江戸時代、上総の国(現千葉県)の地理学者 伊能忠敬は、初の実測による日本全図「大日本沿海輿地全図」を完成させましたが、それより42年前の1779年、水戸藩(現茨城県)の儒学者長久保赤水は、経緯線が引かれており、現在の竹島がはっきりと記載されている日本地図「改正日本輿地路程全図」を実測ではなく、天文学の知識や膨大な資料を基に完成させました。この地図は「日本の書店にあり、教養ある人びとの手許に見出される一般地図」と長崎出島のドイツ人医師シーボルトが評し、海外にも多く流布し、詳細な日本地図として受け入れられました。

### 尖閣諸島

#### EPISODE 1 尖閣諸島の開拓者

尖閣諸島の開拓を行った古賀辰四郎は、その功績を称えられ1909年に国から藍綬褒章(産業振興などにおいて貢献した者に授与される栄典)が授与されています。

#### EPISODE 2 琉球切手に描かれたアホウドリ

第二次世界大戦後、しばらく沖縄は米国の施政下に置かれ、琉球政府が設置されていました。1972(昭和47)年に日本に復帰しましたが、その前年の同年4月に発行された切手には尖閣諸島の南小島か北小島と見られる島にアホウドリの姿が描かれています。アホウドリは、前年の調査で南小島での生息が再確認されました。

#### EPISODE 3 第十一管区海上保安本部

広大な日本の海を守る海上保安庁の任務は、領海警備や不審船等の対応、密輸・密漁の取締りを行う治安の維持、救難・救助、海洋調査に環境保全、測量と多岐にわたります。定員は令和3年現在、約14,400人で、管轄を全国11の管区に分け活動しています。その管区の一つ、1972(昭和47)年の沖縄返還に伴い創設された第十一管区は、尖閣諸島や沖縄周辺の東シナ海、太平洋を管轄していますが、尖閣諸島周辺海域の情勢が複雑化していることから尖閣領海警備専従体制が整備されるなど、今や最大規模の管区となっています。

## 用語解説

### 1 「日本固有の領土」とは

これまで一度も外国の領土になったことがない領土。

### 2 「閣議決定」とは

内閣総理大臣及びその他の国務大臣で構成される会議(閣議)で、国政の重要事項等について内閣の意思を決定するもの。

### 3 「国際司法裁判所」とは

国連の主要な機関の一つであり、国と国が争ったときに、国際法に基づいて、どちらが正しいかを定める裁判所(英語名 International Court of Justice 略称 ICJ)。オランダのハーグに本部を置く。

### 4 「琉球政府」とは

アメリカ合衆国の統治の下で、琉球の行政を行う地元民の政府。

わからない言葉があったら  
参考にするっピ!



## MEMO

