



## 領土・主権展示館

NATIONAL MUSEUM OF  
TERRITORY AND SOVEREIGNTY

### 展示館情報

所在地：東京都千代田区霞が関3-8-1虎の門三井ビルディング1階

開館時間：10時～18時

入館料：無料

休館日：月曜日(月曜日が祝休日となる場合はその次の平日休館)  
年末年始(12月29日から1月3日)

電話番号：03-6257-3715

最寄り駅：東京メトロ 銀座線「虎ノ門駅」3番出口より徒歩1分、  
東京メトロ 丸ノ内線・日比谷線・千代田線「霞ヶ関駅」A13出口より徒歩5分、  
東京メトロ 日比谷線「虎ノ門ヒルズ駅」A2出口より徒歩5分

HP <https://www.cas.go.jp/jp/ryodo/tenjikan>



@ryodoshuken Twitterやっています



## 領土・主権展示館

# WORK BOOK

小・中学生編

領土・主権展示館を見学しながら、ワークブックに挑戦してみよう！

- p.02～p.08は、展示やパンフレットを見ながら考えてみよう。
- p.09～p.10は、クイズになっているよ。  
少し難しい問題もあるけど、頑張って解いて答えを受付カウンターに持って行ってね。全問正解できたらグッズをプレゼントするよ！

# 領土・主権展示館ってどんなところ？

日本にはおよそ14,000の島があり、日本人はそれらの島を行き来したり、利用したりすることができます。

しかし、我が国の領土であるにもかかわらず外国に占拠され、日本人の自由が及ばない島があります。

それが北方四島と竹島です。

また、間違いなく日本の島であり、実際に我が国が有効に支配しているにもかかわらず、他国が独自の主張をしている島があります。

それが尖閣諸島です。

この展示館では、北方四島、竹島、尖閣諸島がどのような島で、どのような成立や歴史があるのか、さらに世界の国々がお互いの関係を定めた条約などの国際法で領土についてはどのようなルールが定められており、それによると、これらの島々の日本の領有についてはどのように考えられるのか学ぶことができます。

領土・主権展示館での学習を通じて、なぜ北方四島、竹島、尖閣諸島は日本の領土といえるのか、なぜこれらの島々が他国に占領されたり、あるいは独自の主張が行われる状況になっているのか、またそれぞれにどのような対応をとるのが良いのか考えてみましょう。



# 領土について学んでみよう！

## Q1 現在の日本の領土はどのように決められたのかな？

第二次世界大戦後の1952年4月発効の  平和条約により、法的に確定されました。

## Q2 日本にある領土問題とは何？

日本の領土問題は、ロシアとの間の  問題及び韓国との間の  問題があります。

## Q3 日本の海の範囲

沿岸から約22kmまでを  といい、その外側に、漁業をしたり、石油などの天然資源を掘ったり、科学的な調査を行ったりという活動を、他の国に邪魔されずに自由に行うことができる  があります。

### キャラクター紹介



りゃんこちゃん

- 性別:ひみつ
- 誕生日:2月22日
- 住んでいるところ:竹島周辺の海
- 好きなこと:海でのびのび泳ぐこと・洞窟探検
- 好きな食べ物:日本海のイカ



竹島



北方領土



北方領土エリカちゃん

- 性別:女の子
- 誕生日:ひみつ
- 住んでいるところ:北海道根室市納沙布岬産
- 好きな食べ物:根室産のさんま、北方領土のサケ・マス



尖閣諸島




アルパちゃん

- 性別:女の子
- 誕生日:1月14日
- 住んでいるところ:南小島
- 好きなこと:お友達とおしゃべり
- 将来の夢:記念切手のモデル

# 北方領土は日本固有の領土!!

**Q1** 日本が18世紀、北方領土と密接な関わりがあったことを示す構造物は何?

**A** 日本は [ ] 時代に北方四島の統治を徐々に確立して、1798年には [ ] 幕府が「大日本恵登呂府」と記された標柱を建て、日本の領土であることを示しているんだッピ!



**Q2** 北方領土問題についての日本の立場はどのようなもの?

**A** 日本政府は北方四島の帰属の問題を解決してロシアとの [ ] を早期に締結するという方針だッピ



**Q3** 北方四島は、北海道からどれ位の距離にあるのかな?

**A** 根室半島の納沙布岬から一番近い [ ] の貝殻島まではわずか3.7kmだッピ~



**Q5** 「北方領土の日」が2月7日に定められた経緯、由来は何?

**A** 1855年に江戸幕府とロシア(帝政)との間で、択捉島とウルップ島の間に国境が確認された [ ] 条約が結ばれた2月7日としたものだッピ



**Q4** 終戦当時、北方四島にいた日本人はどうなったの?

**A** 戦前、北方四島には約 [ ] 人の日本人が住んでいたけれど、全員が1948年までに強制的に日本本土に引き揚げさせられたんだッピ

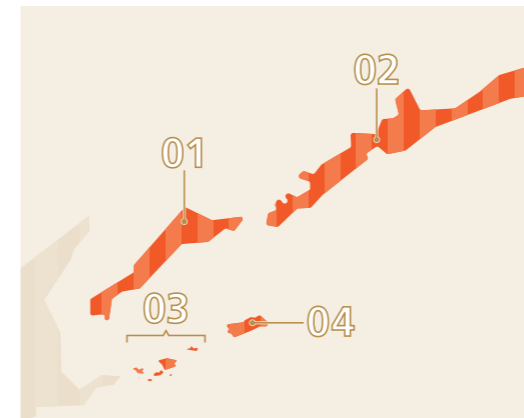


右ページのエピソードも読んで理解を深めるッッピー!



# 北方領土に関するエピソード

## その1 北方領土ってどんな島?



◆四島の総面積は5,003km<sup>2</sup>で、ほぼ福岡県や千葉県と同じ大きさです。  
◆いずれも北海道根室振興局の所管区域です。

### 01 国後島

十数か所の温泉が存在する火山島。名称の由来はアイヌ語で「草の島」です。

### 02 択捉島

火山島でサケやマスが水揚げされるなど水産資源に恵まれています。名称の由来は、アイヌ語で「岬のあるところ」です。

### 03 歯舞群島

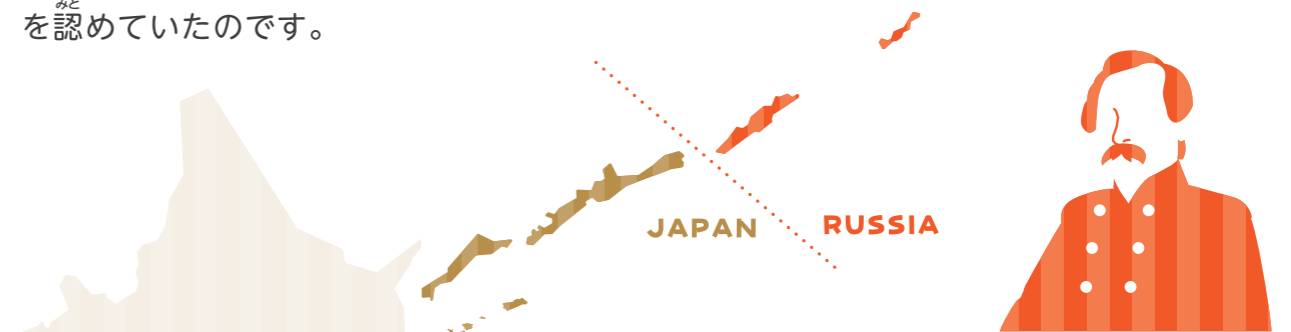
貝殻島、水晶島、勇留島、多楽島などの島々からなり、「歯舞」の名称の由来はアイヌ語で「流氷のある島」です。

### 04 色丹島

島全体が高山植物地帯で、緑に覆われた丘陵が連なっています。名称の由来は、アイヌ語で「大きな集落のある地」です。

## その2 プチャーチン提督が受けていた命令

1853(嘉永6)年2月にロシア海軍プチャーチン提督は、ロシア皇帝ニコライI世より「ロシアに属する最南端はウルップ島であり、同島をロシア領の南方における終点と述べて構わない。」という命令を受けていました。ロシアは、択捉島以南を日本が有効に支配していたことを認めていたのです。



## その3 アニメーション映画「ジョバンニの島」

北方四島の一つ色丹島にソ連軍が進駐し、故郷に帰ることができなくなった人たちの悲しみ、父との再会を思い続ける幼い兄弟、過酷な運命に翻弄されながらも誇り高く生きる人々を描いた物語で、北方領土の元島民で、今もその「語り部」として活躍されている得能宏氏がモデルの少年「純平」が主人公のアニメーション映画です。



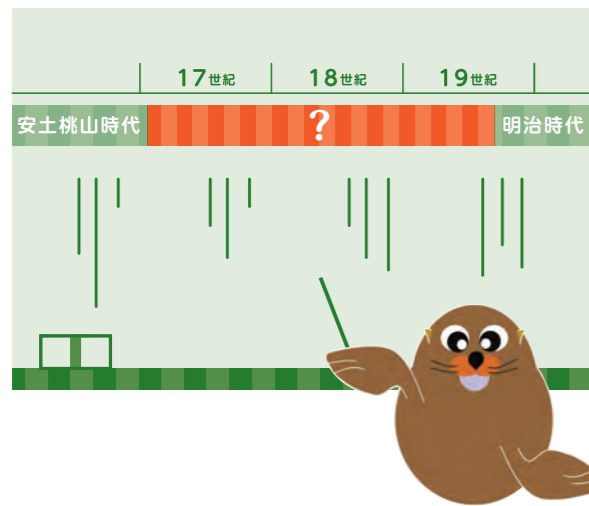
©JAME



# 竹島はどんな島だろう!?

**Q1** 日本人はいつごろから竹島を利用していたのかな?

**A** 17世紀の初め、時代に、米子の商人が竹島の利用を始めたんだオ!



**Q2** 竹島では何がとれたの?

**A** 隠岐の島から鬱陵島までの海の道にある竹島ではやなどがたくさんとれたんだオ!



**Q3** 日本政府は何年に竹島をどこの県の島と決めたの?

**A** 1905年、日本政府は閣議決定で、竹島を県の島としたんだオ。



**Q4** いま竹島は外国に不法に占拠されて、日本人が行けない島になっているけど、それはどこの国が占拠しているからなんだろう?

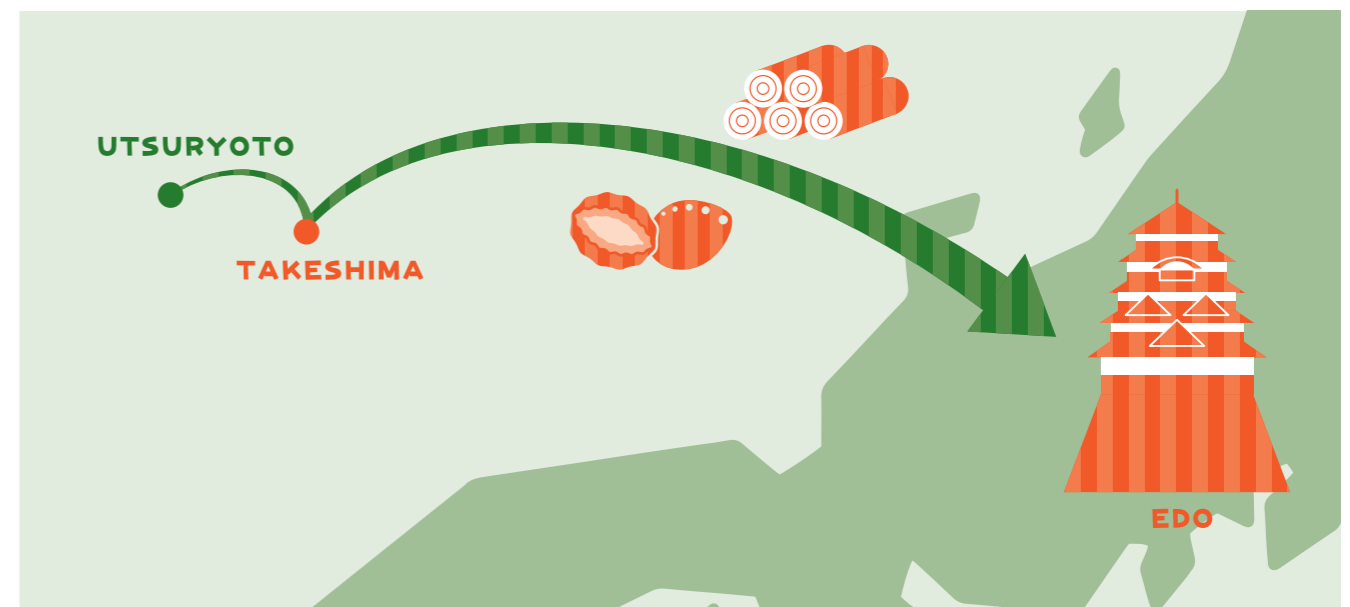
**A** ① アメリカ ② 中国 ③ イギリス ④ 韓国



# 竹島に関するエピソード

## その1 漁業・資源採取の拠点・竹島

江戸時代、日本人は竹島の先の鬱陵島まで漁に行っていました。そこでは海の幸のみならず、杉、竹、桐、日本では貴重な檀木(黒檀、白檀、紫檀)などが豊富にとれ、それらの木材は江戸城の造築に使われたと言われています。隠岐から鬱陵島の道筋にある竹島は、渡航の目標や停泊地、また漁場として利用されました。日本は、遅くとも17世紀半ばには、竹島に対する領有権を確立しました。なお、鬱陵島については、17世紀末に朝鮮との争いを避け、友好関係を尊重して幕府は日本人の渡海を禁じました。



## その2 りゃんこ大王

現在の竹島は、日本ではかつて「松島」と呼ばれていました。明治時代には、竹島を「発見」したフランスの船の名前「リアンクール号」にちなみ、「りゃんこ島」と呼ばれるようになっていましたが、1905年に正式に「竹島」と命名されました。島根県立三瓶自然館で展示されている体長288cm、体重750kgのニホンアシカの剥製は、「りゃんこ大王」と呼ばれています。





# せんかくしょとう 尖閣諸島についてアルバちゃんに聞いてみよう!!

**Q1** 日本はどのようにして、いつ尖閣諸島を領土に入れたの?

**A** 日本は尖閣諸島が [ ] 島であるだけでなく、外国の領土となっていてと思われるような証拠や情報がないことをいねいに調べた上で、1895年1月の閣議決定によって正式に領土として、[ ] 県に入れることになったよー。




**Q2** 尖閣諸島はどんなものがとれたの?

**A** 日本の商人が尖閣諸島を国の許可を得て、開拓に従事し、[ ] の羽毛をとったり、近海で取れた魚を加工して [ ] の製造を始めるようになり、その仕事をするために一番多いときで、尖閣諸島の居住者は99戸、248名に及んだんだよー。



**Q3** 1919年に尖閣諸島周辺で漁民31名が遭難し、これを島の住民が救助したことに対し、翌1920年に助けられた漁民の国の長崎領事から「日本帝国沖縄県八重山郡尖閣列島」と遭難場所が書かれた感謝状が贈られているけど、遭難したのはどこの国の漁民だったのかな?

**A** ① ギリシャ ② スペイン  
③ 中華民国 ④ アメリカ合衆国



**Q4** 日本の尖閣諸島の領土編入から75年後の1970年頃に、中国と台湾が突如、尖閣諸島の根拠のない領有権を主張し始めたのはどうして?

**A** 1969年5月に東シナ海に [ ] 埋蔵の可能性があると国際連合の報告書が出ると、きちんとした証拠もないのに、中国と台湾は自分たちの領土だと言い始め、今では日常的に中国は尖閣諸島の領海に侵入を繰り返しているんだ。しかし、日本は尖閣諸島を [ ] に支配していて領土を絶対に守るといふ決意で、冷静かつ毅然と立ち向かっているよー。



# 尖閣諸島に関するエピソード

## その1 東シナ海の航路の目印

尖閣諸島は魚釣島、北小島、南小島などからなる島々の総称で、沖縄県石垣市に属しています。尖閣諸島は古くから東シナ海を行き来する船の航路標識として利用されていました。琉球国(現沖縄県)の資料や絵図にも描かれています。



「尖閣」の名称は北小島、南小島が先の尖った塔のような形をしていることが由来と言われているよー。




## その2 琉球切手に描かれたアホウドリ

第二次世界大戦後、しばらく沖縄は米国の施政下に置かれ、琉球政府が設置されていました。1972(昭和47)年に日本に復帰しましたが、その直前の同年4月に発行された切手には尖閣諸島の南小島か北小島と見られる島にアホウドリの姿が描かれています。アホウドリは、前年の調査で南小島での生息が再確認されました。



## その3 増え続けるヤギ

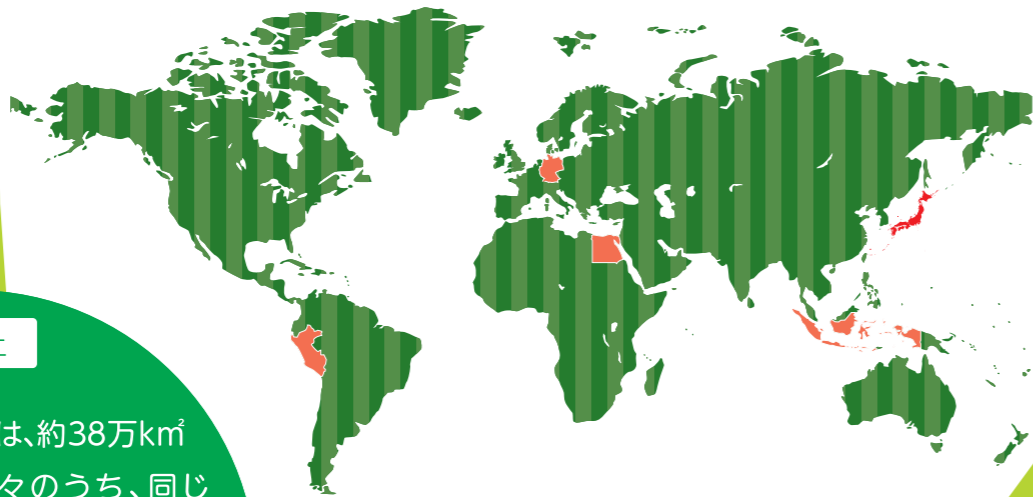
1978(昭和53)年に日本の民間団体が尖閣諸島の魚釣島に灯台を建て、その時につがいのヤギを持ち込みましたが、その後野生化したヤギは数百頭にまで増え、島の生態系が変わってしまったと言われているよー。



# プレゼントクイズ!

START

## 領土クイズにチャレンジ!!



Q1

### 領土

日本の領土の面積は、約38万km<sup>2</sup>ですが、以下の国々のうち、同じくらいの広さの国はどこでしょうか?

- ① エジプト      ② ドイツ
- ③ インドネシア      ④ ペルー

全問正解して  
プレゼントをGETだっぴ!



### 北方

Q2

第二次世界大戦後、日本が旧ソビエト連邦と締結し、両国間の国交を回復することとなった条約は何?

- ① 日ソ共同宣言      ② ヤルタ協定
- ③ カイロ宣言      ④ ポツダム宣言



Q3

### 竹島

竹島は鬱陵島と比べどれくらいの大きさの島?

- ① 約10分の1      ② 約90分の1
- ③ 約180分の1      ④ 約360分の1



UTSURYOTO

TAKESHIMA

頑張って解くんだオ!!

Q4

### 尖閣諸島

尖閣諸島に生息する動植物として正しくないものはどれかな?

- ① センカクモグラ
- ② クロアシアホウドリ
- ③ センカクツツジ
- ④ エトピリカ



領土って奥が深いねー

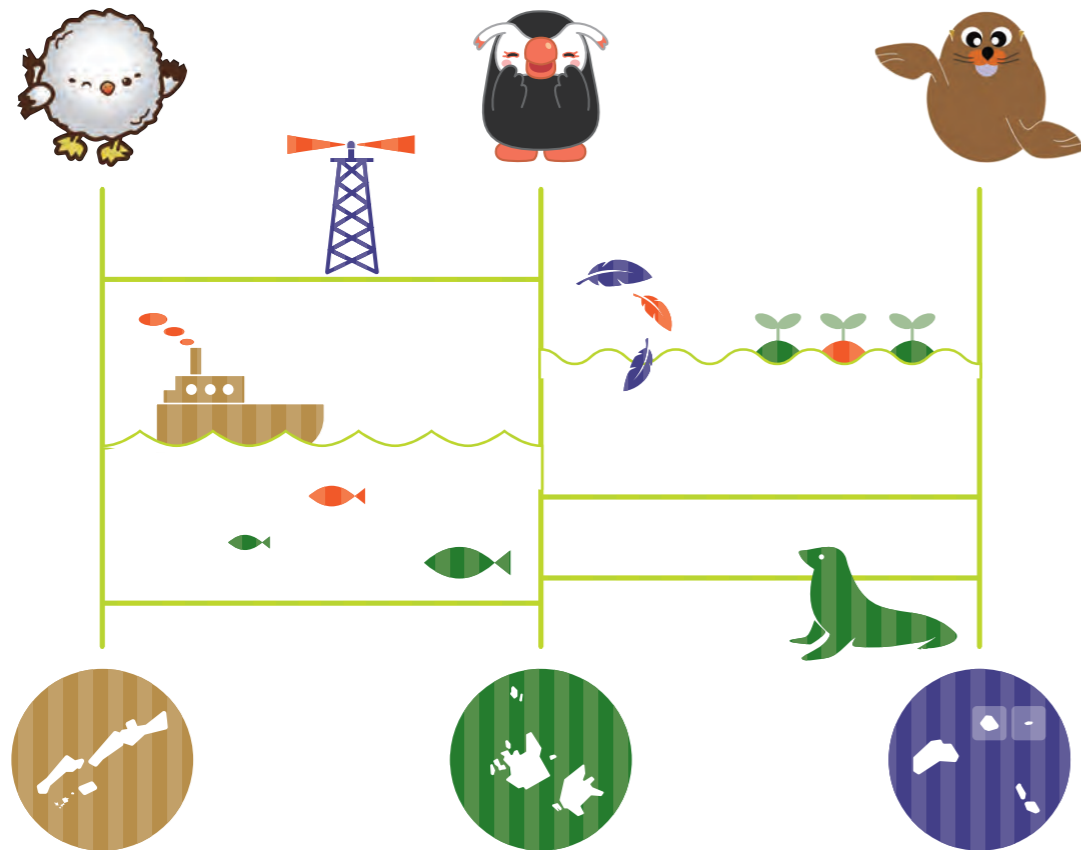
GOAL



受付カウンターで  
答えを教えてね!  
グッズがもらえるよ!

# 用語解説 かい せつ

- ① 「日本固有の領土」りょうどとは  
これまで一度も外国の領土になったことがない領土
- ② 「閣議決定」かくぎとは  
全ての大臣がメンバーになっている会議(閣議)で、重要な案件あんけんについて方針ほうしんを決めること
- ③ 「国際司法裁判所」こくさい さいばんしょとは  
国と国が争ったときに、国際法に基づいて、どちらが正しいかを決める裁判所(英語名 International Court of Justice りやくしやう 略称 ICJ)
- ④ 「琉球政府」りゅうきゅうせいふとは  
アメリカ合衆国の統治の下で、琉球の行政を行う地元民の政府



# MEMO

気が付いたことをメモしてねー!





# MEMO

