
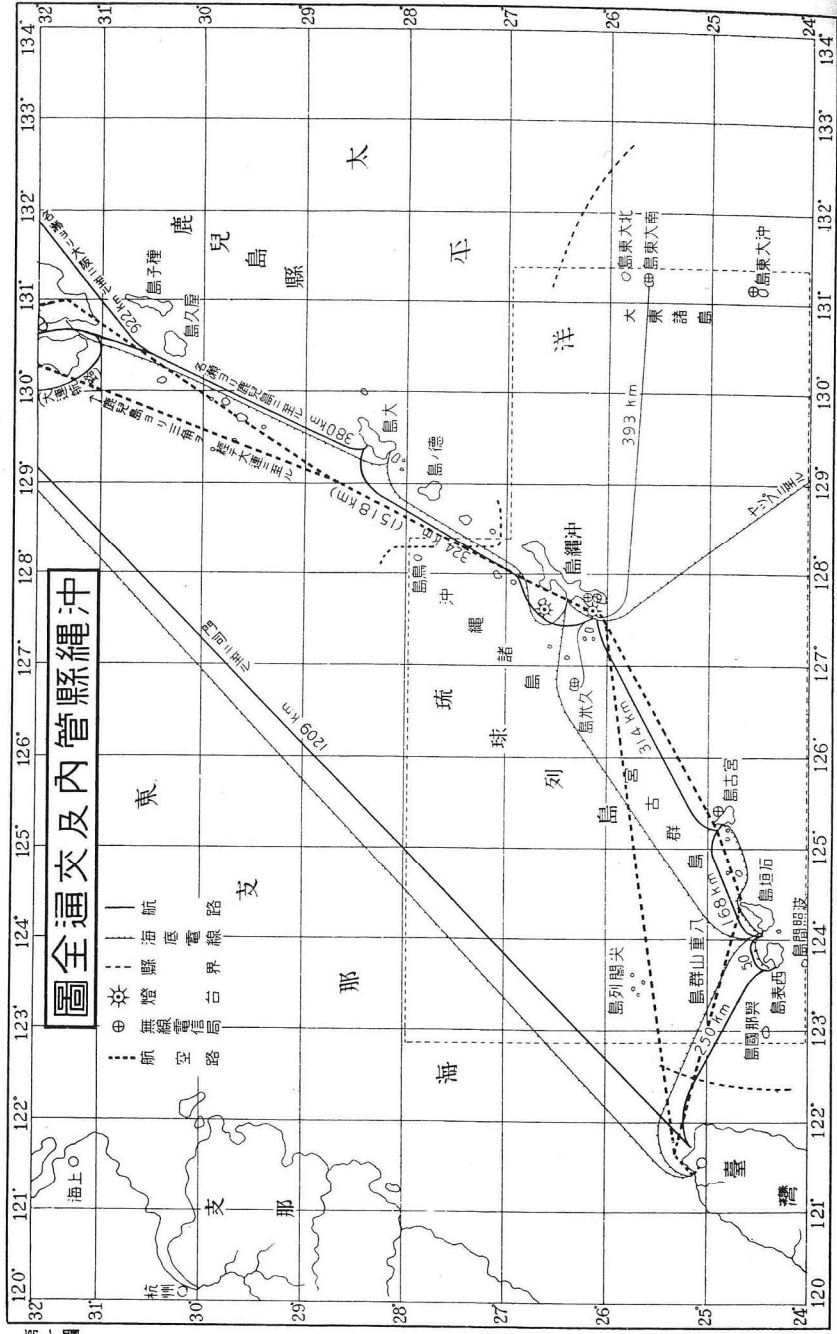


沖繩縣郷土地理

目 録

はしがき	……………	一頁
第一 地 圖	……………	二
第二 區 域	……………	四
第三 面積・區劃	……………	五
第四 人 口	……………	七
第五 地 勢	……………	九
第六 氣候・生物	……………	十三
第七 産 業	……………	十九
第八 交 通	……………	五十一
第九 都 邑	……………	五十七
第十 政 治	……………	六十九
第十一 縣民の覺悟	……………	七十四
挿入地圖		
第一圖 (沖繩縣管內及交通圖)		卷頭
第二圖 (移民分布圖)		卷尾
第三圖 (地勢・交通・都邑・行政區劃・物産分布圖 其一)		卷尾
第四圖 (地勢・交通・都邑・行政區劃・物産分布圖 其二)		卷尾



すことは出来ないから、地圖は常に實際の長さの何分の一かの長さでかゝれる。この縮められた長さを縮尺と言ふ。地圖には、普通縮尺をかき入れることになつてゐる。

問題一 (イ) 教室を百分の一に縮めた長さでかきなさい。

(ロ) 出来上つたら、縮尺をかきそへなさい。

問題二 (イ) この本のはじめにある沖縄縣地圖の縮尺は、いくらですか。



(ロ) 沖縄島の長さを地圖の上で、はかつてごらんなさい。

陸地の高低や海の深淺をあらはすに、色ヶ
バ等高線等深線が用ひられる。
地圖は、おほかた北を上にする。さうでな
いときには、必ず方位を示すことになつてゐ
る。

第二區域

沖縄縣は、我が國の南西部にあつて、東は

區域
限られた場所

面積

太平洋に、西は東支那海に面し、大小六十餘の島々から成る。これらは、沖繩諸島・宮古群島・八重山群島・尖閣列島及び大東諸島に分れてゐる。


問題 地圖で本縣のまほりをしらべなさい。

第三 面積・區劃

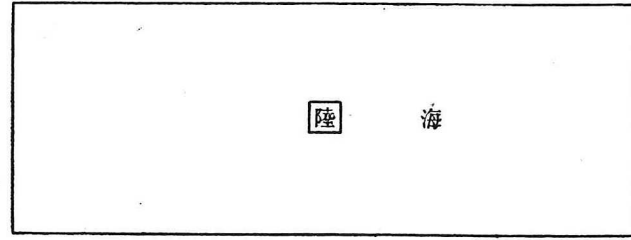
本縣陸地の面積は、二千三百餘方キロメートルで、府縣中四十二番目である。しかし島々の分布されてゐる海面はすこぶる廣い。

第三 面積・區劃

我が國面積の比較



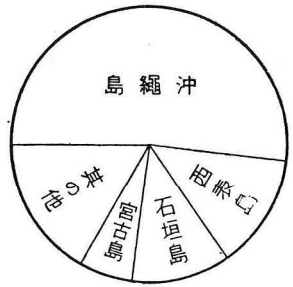
本縣陸海の面積比較



二市五郡の面積比較



主な島の面積比較



上布を産す。

第十 政治

沖繩縣知事は縣行政の長官である。市町村長はそれごとく市町村の行政をつかさどる。又宮古八重山には特に支廳長がゐる。町村を監督してゐる。

尖閣列島は石垣町に屬し、大東諸島は縣の直轄になつてゐる。

縣内主なる都邑にある警察署は、各管内の

安寧秩序を維持し、縣民の身體生命財産を保護する。

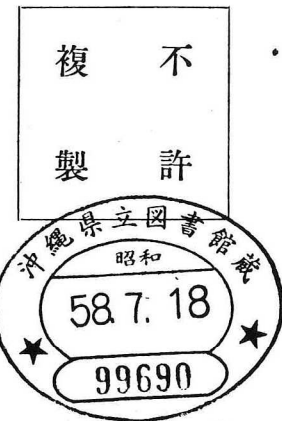
沖繩縣會は各選舉區から選出された三十名の縣會議員から成る。縣の歳入歳出豫算、其他法律に列擧された事項を議決する。

縣參事會は縣會と共に縣の議決機關である。議長と縣會で選舉された十名の縣參事會員とで組織する。知事は隨時之を招集開閉し、又其の議長となる。

市町村會は市町村の議決機關であつて、其

SK29
052

昭和昭和昭和昭和昭和昭和
和和和和和和和和和和和和
十十十十十十十十十十十十
四三二二二一九八
年年年年年年年年
二四四二二三二
月月月月月月月月
十一一四十五
日日日日日日
新改改改改改改改改改改改改
訂訂訂訂訂訂訂訂訂訂訂訂訂訂
八七六五四三
版版版版版版版版版版版版



不許
複製

發賣元

沖繩縣鄉土地理

定價金拾八錢

著者

沖繩縣初等教育研究會

發行者

沖繩縣教育會

兼翻印刷發行者

那霸市東町一丁目廿八番地
沖繩書籍株式會社

印刷所

京都市下京區西洞院七條南
代表者 大久保孝三郎
內外出版印刷株式會社

沖繩書籍株式會社